


INSTITUCIÓN EDUCATIVA DISTRITAL "SAN JOSÉ" UNALE SURORIENTE Resolución N° 08485 del 31-12-2009 de la S.D.E de Barranquilla Nit. 802007431-2 DANE 108001003025 	TALLER EVALUATIVO- PLAN DE AREA : SAN JOSÉ GEOGRAFICO	Asignatura: SOCIALES- PLAN DE AREA
		Grado: 8° A B C D 9° AB C D
		Docente: YESID LOGREIRA PETRO
		Fecha: Del 5 al 7 de Mayo/2021
		Nombre del estudiante:

Temas:

- 1: Generalidades de la geografía: Retroalimentación: Los Continentes (Origen y formación), Formas del Relieve, Ubicación geográfica Planisferio: Continentes y Océanos.
- 2: Características físicas y políticas de Europa: Relieve y división política del territorio.

Propósito: *Manifiesta interés y responsabilidad en la realización de las actividades académicas propuestas para realizar desde casa, fortaleciendo las habilidades y competencias integrales, especialmente las relacionadas con el aprendizaje autónomo y el desarrollo del pensamiento crítico y analítico.*

GENEREALIDADES DE LA GEOGRAFÍA

Retroalimentación: Los Continentes: Origen y formación

Formas del Relieve, Ubicación geográfica Planisferio: Continentes y Océanos

LOGRO: Reconocer el concepto de Continente, su origen o formación y las características generales de cada Continente a través de la observación, estudio y elaboración de Mapas del Mundo, especialmente del continente Europeo. De tal manera, que logre ubicarse en el espacio geográfico de Europa, lugar que estudiaremos los procesos históricos más destacados del Siglo XVIII y Siglo XIX.

LECTURA Y ACTIVIDADES

Continentes y océanos

Un continente es cada una de las grandes extensiones en que se divide la superficie terrestre, separadas entre sí por los océanos. Los océanos son aquellas partes de la superficie del planeta ocupadas por agua marina que rodean a los continentes y que cubren actualmente alrededor del 71% de la Tierra.

Nuestro planeta se encuentra formado por seis continentes: - América- Asia- África- Europa- Oceanía- El continente Antártico.

Y por cinco océanos:- **Pacífico- Atlántico- Indico- Glacial Ártico-Glacial Antártico**

Los continentes: El continente más grande es Asia, lo sigue América, África, la Antártida, Europa y Oceanía.

OBSERVA EL SIGUIENTE MAPA: ESTUDIA CONOCE LA UBICACIÓN GEOGRAFICA DE LOS 6 CONTINENTES

Los Continentes



EUROPA: El territorio de Europa abarca 10.519.723 de km² siendo el segundo pequeño de los cinco continentes. Para algunos geógrafos este continente es la continuación de Asia, pero por sus rasgos físicos y su desarrollo cultural presenta características particulares en cuanto a su relieve, hidrografía, clima y aspectos humanos.

Europa es un continente del hemisferio norte, el segundo más pequeño del mundo y el tercero más poblado (luego de Asia y África). Está conformado por las penínsulas de Eurasia (gran masa de tierra que comparte con el continente asiático) hacia el oeste, abarcando parte del continente y parte de las islas cercanas como Gran Bretaña e Islandia. La isla de Groenlandia, a pesar de estar físicamente más cerca de América, desde la división política forma parte de un país europeo (Dinamarca).

Posición Geográfica



Europa limita al norte con el océano Glacial Ártico; al sur con el mar Mediterráneo, al oriente se encuentran los montes Urales, los montes Cáucaso, el mar Negro y el mar Caspio, que separan a Europa de Asia y al occidente el océano Atlántico.

Posición astronómica

Europa está ubicada latitudinalmente en el hemisferio norte; longitudinalmente, posee tierras en el hemisferio oriental y occidental, observa con atención el mapa. Europa se extiende desde los 9°27' desde el cabo Roca en Portugal al occidente, hasta los 60° en los montes Urales, al oriente. Latitudinalmente, desde el cabo Norte a 71°11' al norte, hasta cabo Matapán a 36°32' al sur. Como consecuencia de la latitud, el territorio europeo se encuentra en zona de latitudes medias y altas. En las zonas de latitudes medias se presentan las estaciones, mientras que las zonas en latitudes altas, presentan bajas temperaturas durante todo el año. Como consecuencia de la longitud, Europa tiene tierras en el hemisferio oriental y en el occidental, de las cuales la mayor parte se encuentra en el hemisferio occidental. La distancia entre los puntos extremos es de 74°20' lo que equivale a 5 husos horarios.

Relieve de Europa

El continente europeo tiene un relieve variado que puede dividirse en tres grandes secciones: las tierras planas o de llanura, las mesetas y macizos antiguos y las cadenas montañosas. Veamos algunas de las particularidades de estas formas del relieve.

El relieve de Europa es relativamente simple. Todo el conjunto se organiza en torno a una gran llanura central que está rodeada de regiones montañosas y mares. El 66% del territorio europeo no supera los 200 metros de altitud; no obstante, la influencia de las montañas es crucial para entender la cultura europea. La co Europa tiene más de 43.000 km de costas; y casi ningún punto de su territorio deja de sentir la influencia del mar. Los mares europeos han sido vías de comunicación que han facilitado el contacto entre los pueblos. Dos son los grandes mares europeos el Mar del Norte y Báltico, por un lado y el Mediterráneo por otro. Se encuentran con facilidad puertos naturales, fiordos, rías, golfos, etc. Los accidentes geográficos más importantes son:

Penínsulas: Kanin, Kola, Jutlandia, Escandinavia, Iberia, Italia y Balcanes.

Cabos: Norte, Punta de San Mateo, Finisterre, Roca, San Vicente, Gata, Spartivento y Matapan.

Golfos: Botnia, Finlandia, Vizcaya, León, Génova y Venecia.

Estrechos: Canal de la Mancha, Gibraltar, Messina, Dardanelos y Bósforo.

Islas: Islandia, Británicas, Baleares, Córcega, Cerdeña, Sicilia y Creta.

En Europa se distinguen los siguientes conjuntos:

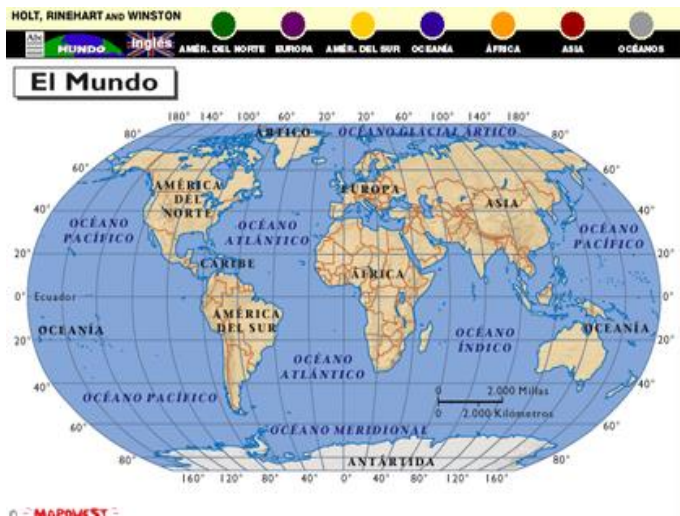
- * **Gran Llanura europea**, que se extiende desde los **montes Urales** hasta el río Weser en Alemania;
- * **Llanuras atlánticas**, que se extienden desde el río Weser hasta las Landas y el Pirineo;
- * **Llanuras interiores**, como la llanura de Hungría, Valaquia, la llanura Central Rusa y las alturas del Volga;
- * **Llanuras litorales** mediterráneas, orientadas al Mediterráneo y muy estrechas;

Los viejos **macizos hercinianos y caledonianos**, como el **macizo Central Francés**, el **Macizo Ibérico** y el **escudo Escandinavo**, son las estructuras en torno a las cuales se desarrolla el resto del relieve, y en su interior se encuentran sistemas montañosos como los montes de Irlanda, los **montes Grampianos**, los **montes Escandinavos**, el **Sistema Central Ibérico** y **la meseta de Finlandia**; Los arcos alpinos, las montañas más jóvenes, como Sistema Bético, Cordillera Cantábrica, Pirineos, Alpes, Alpes Dináricos, Apeninos, Cárpatos, Alpes de Transilvania, Balcanes y Cáucaso. El Jura, los Vosgos, la Selva Negra, la Selva de Bohemia, los Montes Metálicos, los Sudetes y los Montes de Moravia en el centro del continente. **Los montes Urales** forman la frontera con Asia por el este y el Cáucaso por el sur.

OBSERVA Y ANALIZA:

EL PLANISFERIO: REPASA LOS CONTINENTES

EUROPA EN EL MUNDO



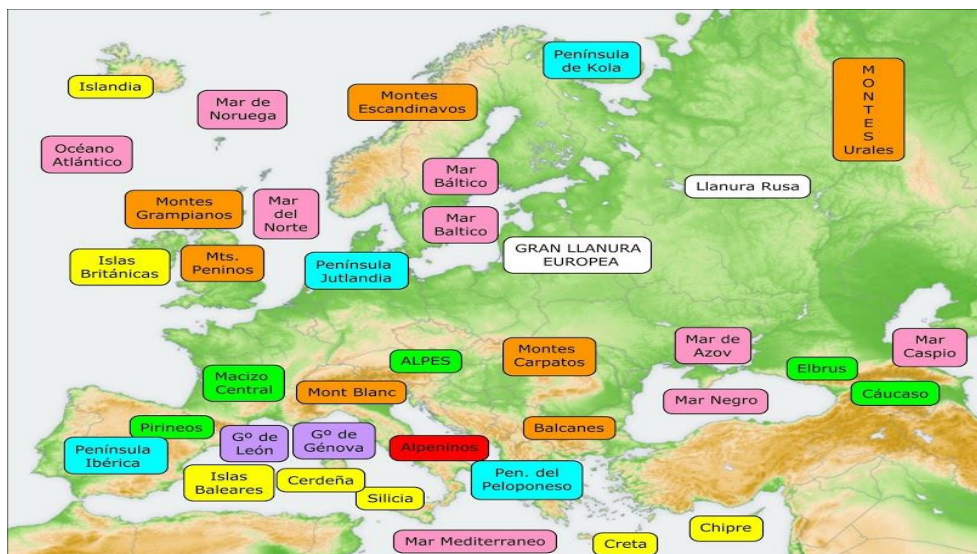
EUROPA FISICA: OBSERVA EL MAPA Y ESTUDIA LA UBICACIÓN LAS DISTINTAS FORMAS DEL RELIEVE DE ACUERDO AL LISTADO DEL CUADRO ANEXO (LOCALIZA CADA FORMA DEL RELIEVE EN EL MAPA Y MEMORIZA SU UBICACIÓN GEOGRAFICA)



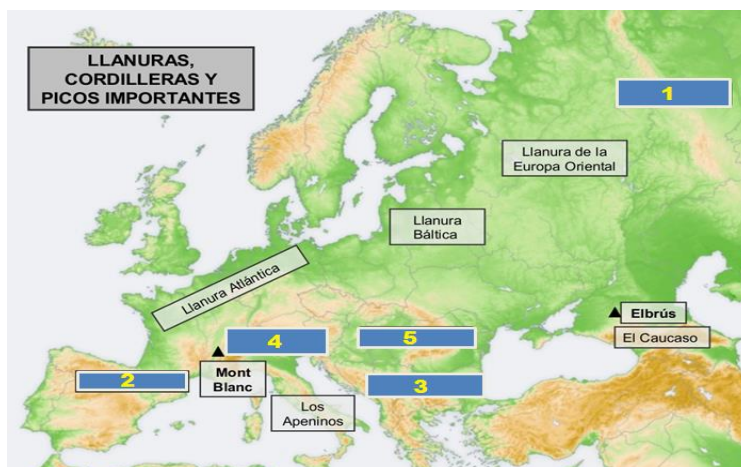
CORDILLERAS Y MACIZOS	RÍOS	MARES	PENÍNSULAS E ISLAS	LLANURAS Y DEPRESIONES	CABOS, ESTRECHOS, CANALES Y GOLFOS
1. Montes Escandinavos	1. Pechora	1. Océano Atlántico	1. P. de Kola	1. Ll. de Europa Oriental	1. Cabo Norte
2. Montes Urales	2. Dvina	2. Mar Báltico	2. P. de Jutlandia		2. Cabo Finisterre
3. Montes Grampianos	3. Volga	3. Mar de Noruega	3. P. Itálica		3. Cabo de San Vicente
4. Cárpatos	4. Ural	4. Mar del Norte	4. P. Balcánica	2. Gran Llanura Europea	4. Canal de la Mancha
5. Caúcaso	5. Don	5. Mar Cantábrico	5. P. Peloponeso		5. Estrecho de Gibraltar
6. Alpes	6. Dniepper	6. Mar Tirreno	6. P. Ibérica	3. Depresión del Caspio	6. Estrecho de Dardanelos
7. Alpes Dináricos	7. Dniester	7. Mar Adriático	7. P. de Crimea		7. Estrecho del Bósforo
8. Balcanes	8. Vistula	8. Mar Jónico	8. Islas Británicas.		8. Golfo de Botnia
9. Macizo Central	9. Oder	9. Mar Egeo	9. Isla de Córcega.		9. Golfo de Vizcaya
10. Pirineos	10. Elba	10. Mar de Mármara	10. Islas Baleares		
11. Apeninos	11. Rhin	11. Mar Negro	11. I. de Creta		
	12. Danubio	12. Mar de Azov	12. I. de Islandia		
	13. Támesis	13. Mar Caspio	13. Isla de Sicilia		
	14. Sena		14. Isla de Cerdeña		
	15. Loira				
	16. Ródano				
	17. Po				

¿YA TE APRENDISTE DONDE ESTÁ UBICADO CADA FORMA DEL RELIEVE DEL LISTADO ANTERIOR?

(HAZTE UN AUTOEXÁMEN)



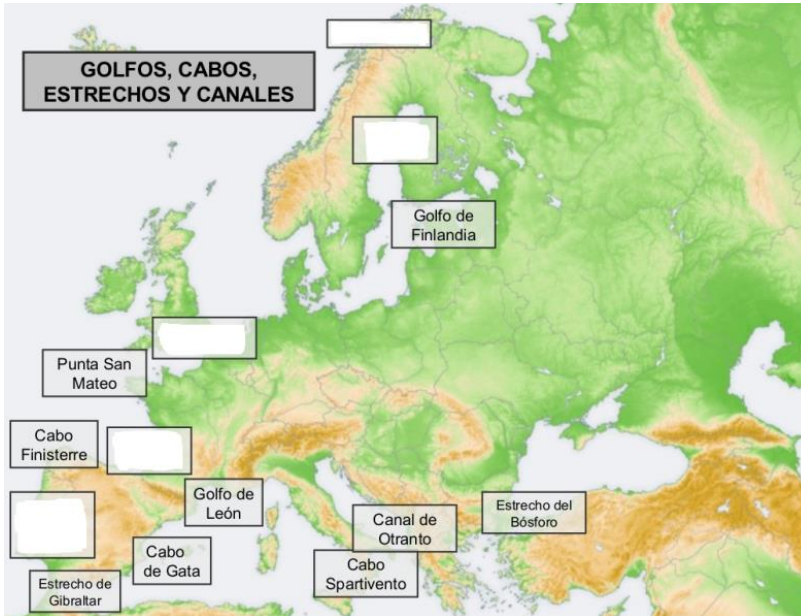
ACTIVIDAD: ESCRIBE EL NOMBRE DEL ACCIDENTE GEOGRÁFICO DE ACUERDO CON EL NÚMERO, OBSERVA EL MAPA



1: _____ 2: _____ 3: _____

4: _____ 5: _____

COMPLETA CON EL NOMBRE DE LOS CABOS Y GOLFOS QUE FALTAN:



EUROPA POLÍTICO: OBSERVA EL MAPA Y ESTUDIA LOS NOMBRES Y UBICACIÓN DE LOS PAÍSES DE EUROPA



Albania: Alemania: Andorra: Austria: Bélgica: Bielorrusia: Bosnia y Herzegovina: Bulgaria: Croacia: Dinamarca: Estonia: Finlandia: Francia: Grecia: Hungría: Irlanda: Islandia: Italia: Kosovo: Letonia: Liechtenstein: Lituania: Luxemburgo: Macedonia: Malta: Moldavia: Mónaco: Eslovaquia: Eslovenia: España: Montenegro: Noruega: Países Bajos: Polonia: Portugal: Reino Unido: República Checa: Rumanía: Rusia: San Marino: Serbia: Suecia: Suiza: Ucrania: Ciudad del Vaticano: Completan la lista (hasta 52) otros países pertenecientes al Reino Unido, Finlandia, Noruega y Dinamarca.

ACTIVIDAD

ESCRIBE EL NOMBRE DEL PAÍS DE ACUERDO CON EL NÚMERO



- 1: _____
- 2: _____
- 3: _____
- 4: _____
- 5: _____
- 6: _____
- 7: _____

MÁS ACTIVIDADES

DE LA LECTURA EXTRAIGA:

- A) NOMBRE DE LOS CONTINENTES
- B) EXTENSIÓN TERRITORIAL DEL CONTINENTE EUROPEO
- C) UBICACIÓN DE EUROPA EN EL PLANETA
- D) CARACTERÍSTICAS DEL RELIEVE
- E) REALIZA UN MAPA MUDO (CROQUIS DE EUROPA) Y LOCALIZA: LAS PENÍNSULAS, LOS CABOS, LOS OCEANOS, LAS LLANURAS, LOS MACIZOS Y COORDILLERAS, GOLFOS Y RIOS

- ELABORA UN **MAPA FISICO** DE EUROPA DE “TU PUÑO Y LETRA” Y UBICA CADA ACCIDENTE GEOGRAFICO (FORMA DEL RELIEVE) QUE SE MENCIONA EN LA LECTURA. (ANEXA EL DIBUJO A ESTE TALLER CON COLORES Y ESTÉ LEGIBLE)
- ELABORA UN **MAPA POLITICO** DE EUROPA “TU PUÑO Y LETRA” Y UBICA LOS PAISES DEL CONTINENTE EUROPEO. . (ANEXA EL DIBUJO A ESTE TALLER CON COLORES Y ESTÉ LEGIBLE)
- REALICE **LA LECTURA**, ESTUDIE LAS IMÁGENES Y REALICE TODAS LAS ACTIVIDADES QUE APARECEN EN ESTE TALLER
- **OBS: SI PUEDES** INGRESA AL AMBIENTE VIRTUAL DE APRENDIZAJE: CLIC EN: [SAN JOSÉ GEOGRÁFICO](#)



AUTOREFLEXIÓN:



Diligencia el siguiente formulario de autorreflexión, marcando una X en la opción que consideres.

Autorreflexión	Siempre	Casi siempre	A veces	Nunca
• A pesar de las dificultades, considero cada compromiso académico, como un reto personal que debo alcanzar.				
• Sigo instrucciones relacionadas con actividades de clase propuestas por el/la docente.				
• Entrego las evidencias de los compromisos o tareas asignadas en los tiempos establecidos.				
• Organizo un horario para el desarrollo de las actividades asignadas.				
• La educación a distancia me ha permitido tener una rutina de estudio que antes no tenía.				